

Prénom :

Date :

Correction :


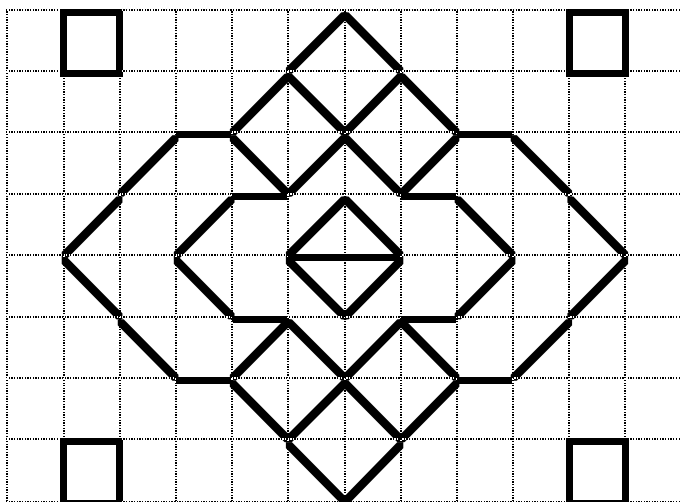

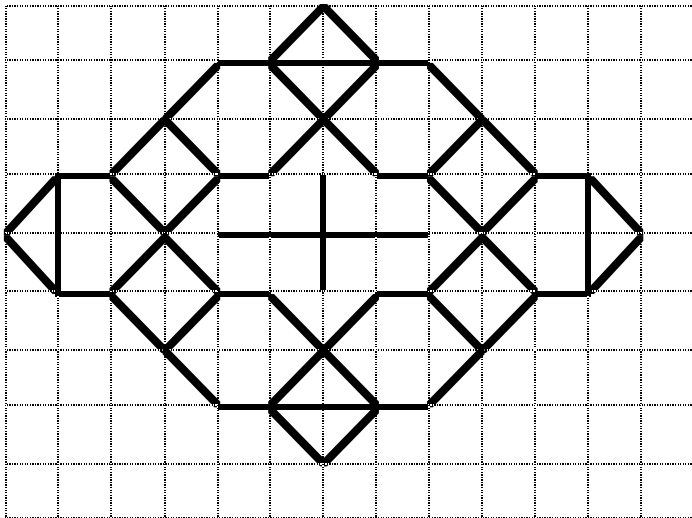
Parcours Géométrie Quadrillages

Niveau 1 - PmG01

Il est plus facile de commencer
par la ligne extérieure (le
tour !).



Observe ces figures, reproduis-les et colorie-les avec des crayons de couleur.



Prénom :

Date :


Correction :

Parcours Géométrie


L'étoile

Niveau 1 - PmG02

Observe cette figure, reproduis-la et colorie-la avec des crayons de couleur.



Suis bien ce programme de construction !



1. Il faut un double-décimètre.
2. Commence par la grande « étoile, celle qui est devant !
3. Trace ensuite la petite étoile, celle qui est derrière !

Prénom :

Date :

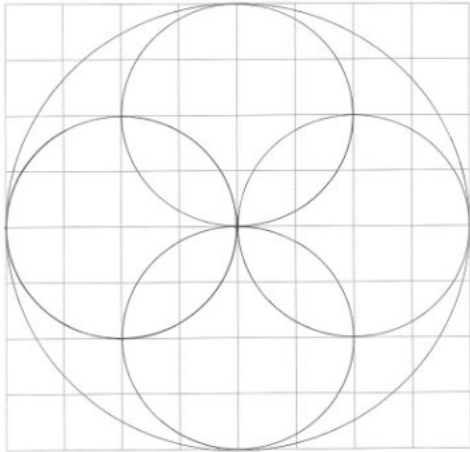
Correction :

Parcours Géométrie

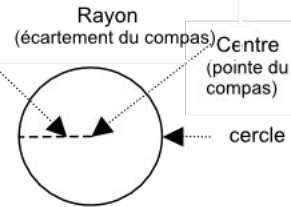
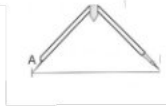
Les cercles

Niveau 1 - PmG03

Observe cette figure, reproduis-la et colorie-la avec des crayons de couleur.




Rappel :



Quelques conseils...

1. **Respecte** le nombre de carreaux : rayon = 4 carreaux !
2. **Commence** par le grand cercle !
3. **Réfléchis** : comment trouve-t-on le **centre** (pointe du compas) et le **rayon** (écartement du compas) des petits cercles ?





Parcours Géométrie Mathématiques

Niveau 1

Prénom : _____